

PHIẾU HƯỚNG DẪN HỌC MÔN TOÁN

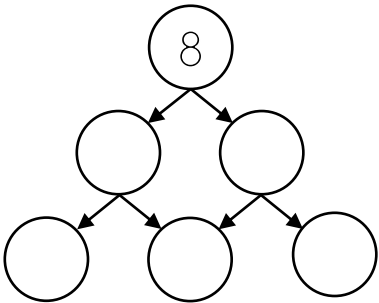
Họ và tên: Lớp: 1B.....

Nhận xét:

Phần 1. Khởi động

Dùng các số trong hộp để điền vào chỗ trống.
Mỗi số chỉ được dùng một lần.

24315

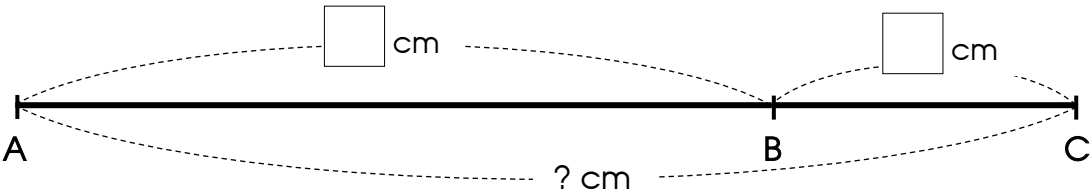


Phần 2. Bài tập

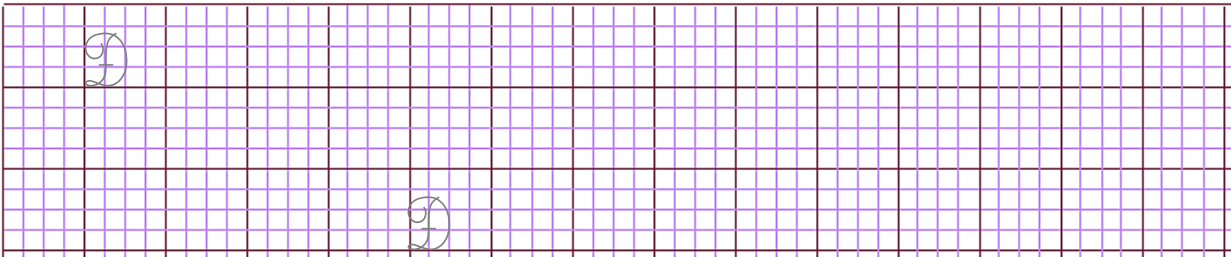
1. Tính

$45 - 5 = \dots\dots$ $65 - 60 = \dots\dots$ $34 - 34 + 23 = \dots\dots$ $32 + 7 = \dots\dots$ $39 - 16 = \dots\dots$ $90 - 60 + 20 = \dots\dots$

2. Đo độ dài của đoạn thẳng AB và đoạn thẳng BC. Tính độ dài đoạn thẳng AC.

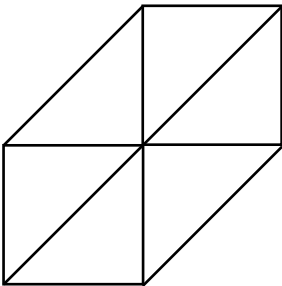


Bài giải



3. Trong hình sau, có:

..... hình vuông
..... hình tam giác



PHIẾU HƯỚNG DẪN HỌC MÔN TIẾNG VIỆT

1. Tập chép

Bàn tay mẹ

Hằng ngày, đôi bàn tay của mẹ phải làm
biết bao nhiêu là việc.

Đi làm về, mẹ lại đi chợ, nấu cơm. Mẹ còn
tắm cho em bé, giặt một chậu tã lót đầy.


Bàn tay mẹ

Hằng


Đi

2. Điền âm, vần thích hợp vào chỗ chấm:

a. Điền an hay at




kéo đ.....




t..... nước

b. Điền g hay gh



nhàa



cáiế

3. Viết 1 - 2 câu thể hiện tình cảm của em về mẹ